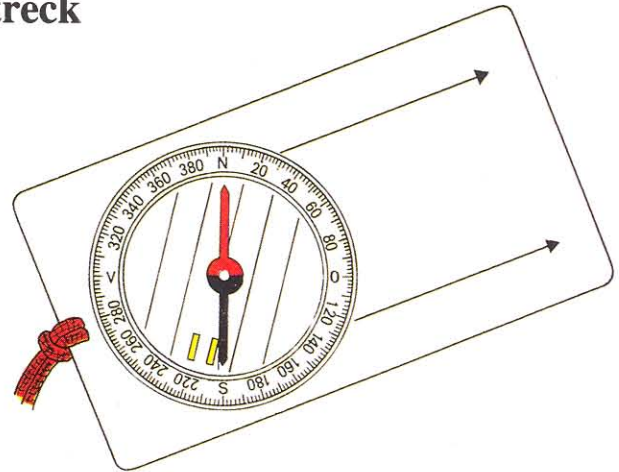


6. Väderstreck

Till höger ser du en handkompass. Det finns många olika typer av kompasser men alla har en sak gemensamt - kompassnålen. Den röda delen av kompassnålen pekar alltid mot norr.

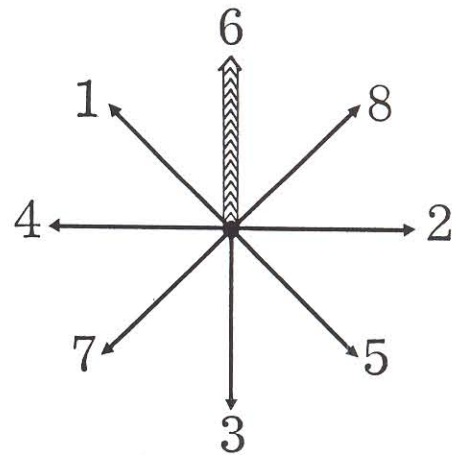
De andra väderstrecken heter söder, väster och öster. Väderstreck som ligger mellan dessa har också speciella namn som t ex nordväst, sydöst och sydväst.



Övningsuppgift 1

Figuren till höger är en "kompassros" med olika väderstreck numrerade från 1 till 8. Ange den siffra som motsvarar nedanstående väderstreck:

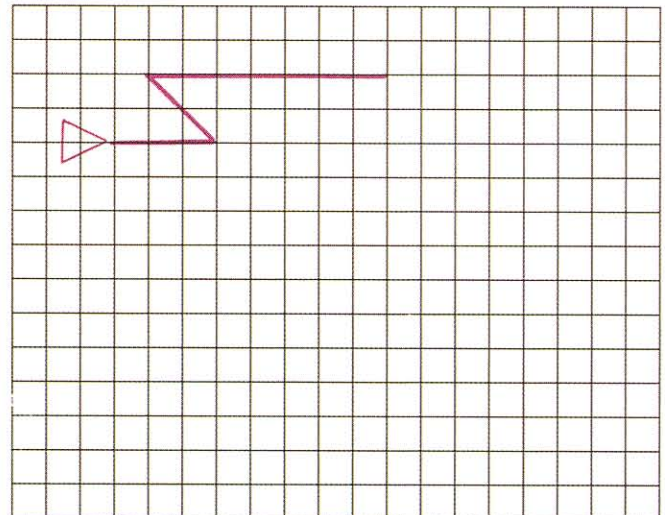
- | | |
|----------------|--------------------|
| Norr (N) är: | Syd-Öst (SÖ) är: |
| Söder (S) är: | Syd-Väst (SV) är: |
| Väster (V) är: | Nord-Öst (NÖ) är: |
| Öster (Ö) är: | Nord-Väst (NV) är: |



Övningsuppgift 2

Försök att ta dig från start till mål i rutmönstret till höger. De tre första riktningarna är redan inritade.

- 4 rutor åt Ö
- 2 rutor åt NV
- 7 rutor åt Ö
- 2 rutor åt SV
- 4 rutor åt Ö
- 3 rutor åt S
- 2 rutor åt SV
- 2 rutor åt V
- 2 rutor åt N
- 2 rutor åt V
- 2 rutor åt SV
- 3 rutor åt NV
- 2 rutor åt N



Namn: